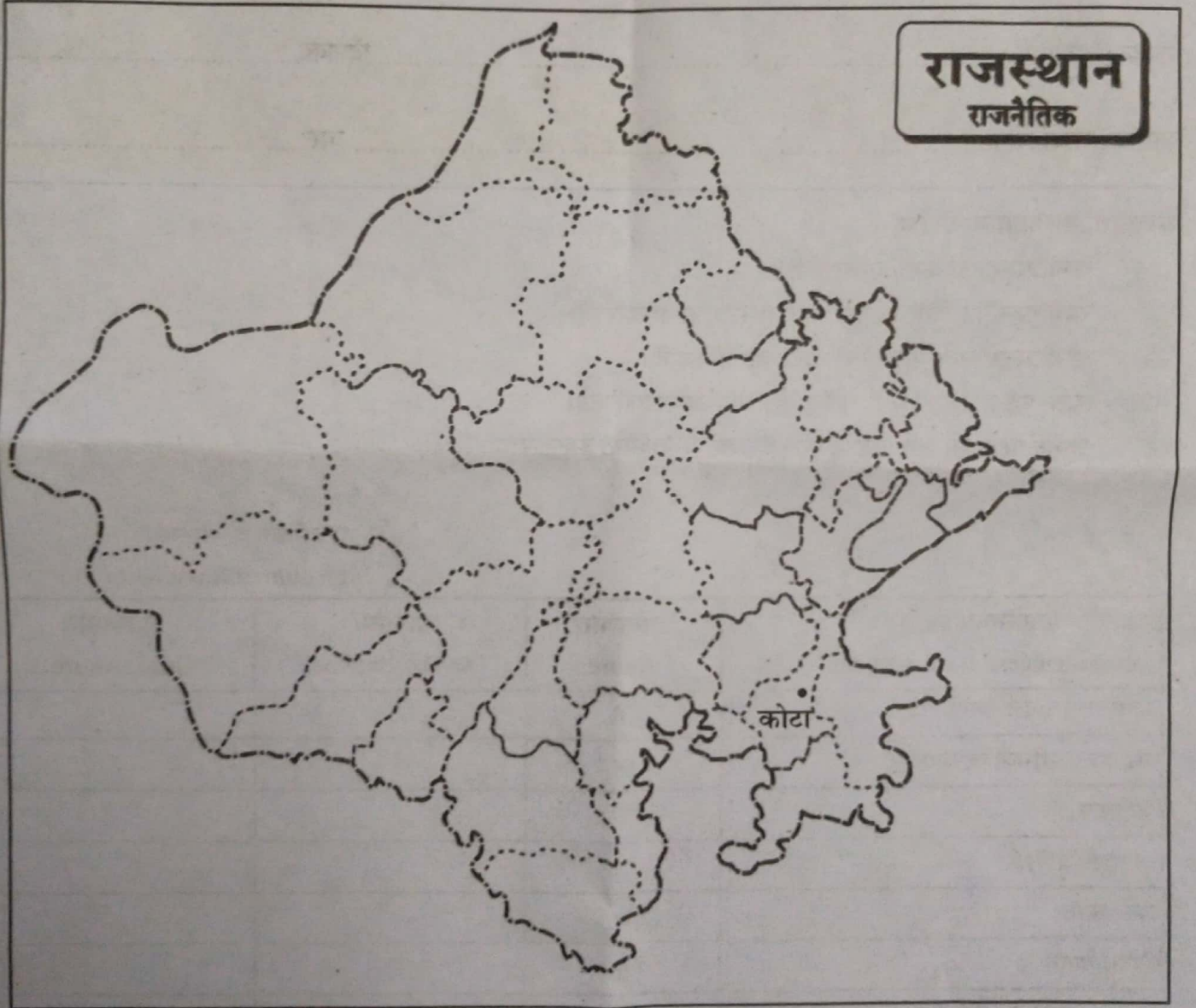


अवलोकन एवं दर्ज करना

अंक : 8

1. कुछ पौधे कंद से पैदा होते हैं, जैसे—आलू, शकरकंद, अदरक, इसी प्रकार पत्तियों के किनारे से पैदा होने वाला पौधा है— 2
 - (अ) पत्थरचट्टा
 - (ब) भिण्डी
 - (स) कॉफी
 - (द) चाय ()
2. एकल परिवार बनने के प्रमुख कारण बताइये। 3
3. दिये गये मानचित्र में कोटा जिले के तीन पड़ोसी जिलों को छायांकित कीजिए। 3



सम्प्रेषण कौशल (अभिव्यक्ति / चर्चा)

अंक : 9

4. आपने कई जलाशयों को देखा है, उनमें रहने वाले कोई तीन जलीय जन्तुओं के नाम लिखिए। 3
5. घरों में भोजन एवं खाद्य सामग्री को सुरक्षित रखने के लिए क्या उपाय किये जाते हैं ? 2
6. निम्नांकित चित्र में कारीगर एवं श्रमिक भवन निर्माण का कार्य कर रहे हैं। भवन निर्माण में कौन-कौनसी 4 सामग्रियों का उपयोग किया जाता है ? लिखिए। 1+1+1+1=4




वर्गीकरण करना

अंक : 21

7. किस जन्तु को चारों ओर दिखाई देता है ? 2
- (अ) मक्खी (ब) मच्छर
- (स) तितली (द) तिलचट्टा ()
8. पशुओं में होने वाले तीन रोगों के नाम लिखिये। 3
9. ब्रेल लिपि को समझाइये। 5
10. निम्नलिखित वस्तुओं को उनके पानी में तैरने एवं डूबने के आधार पर तालिका में भरिए— 5
- चाबी, मोबाइल, तेल, कागज का टुकड़ा, घड़ी, स्केल, ताँबा, नाव, लोहा, बोतल।

| पानी में तैरने वाली वस्तु | पानी में डूबने वाली वस्तु |
|---------------------------|---------------------------|
| | |
| | |
| | |
| | |
| | |

11. वायु किन-किन चीजों से प्रदूषित हो जाती है ? 6
- व्याख्या / विश्लेषण** अंक : 16
12. पारम्परिक खेल कौन-कौनसे हैं ? 2
13. एनीमिया रोग होता है— 2
- (अ) खून की कमी से (ब) भोजन की कमी से
- (स) पानी की कमी से (द) भूख की कमी से ()
14. बर्फ के घर को कहा जाता है— 2
- (अ) इग्लू (ब) खपरैल
- (स) कव्वलू (द) आर.सी.सी. ()
15. दिए गए माही बाँध के चित्र को देखकर उसके बारे में जानकारी प्राप्त करने के लिए कोई तीन प्रश्न लिखिए : 5



16. होटल, ठेलों या फेरी वाले जहाँ खाने की चीजें बनाते हैं, वहाँ साफ-सफाई का स्तर क्या है ? निम्नलिखित बिन्दुओं के आधार पर जाँचिए :
सब्जियों को धोना, आस-पास की साफ-सफाई, हाथों को धोना, उपयोग में आने वाला पानी, बर्तनों की सफाई, खाना खुला या ढका आदि।

प्रश्न करना

अंक : 5

17. प्लास्टिक की थैलियों का उपयोग क्यों नहीं किया जाना चाहिए ?


5

प्रयोग करना

अंक : 5

18. दिए गए चित्र को देखकर वर्षा जल संग्रहण की प्रक्रिया के चरण लिखिए :

5

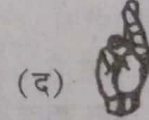

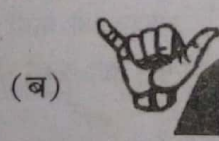
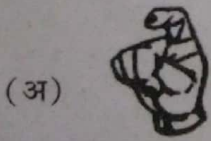
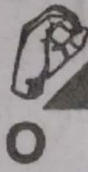


न्याय एवं समता के प्रति सरोकार

अंक : 8

19. नीचे दिए गए चित्रों को देखकर साइन भाषा में 'Y' किस प्रकार दर्शाते हैं ?

2



()

20. डॉ. भीमराव अम्बेडकर के जीवन से आपको क्या प्रेरणा मिलती है ? लिखिए।

3

21. आपका मित्र विकलांग है। आप उसकी किस प्रकार से मदद करेंगे ? कोई तीन वाक्य लिखिए।

3

एक-दूसरे के कार्यों का सम्मान एवं गुणों की प्रशंसा करना

अंक : 8

22. 1961 में पहली बार अंतरिक्ष की यात्रा की—

2

(अ) यूरी गागरिन ने

(ब) नील आर्मस्ट्रांग ने

(स) कल्पना चावला ने

(द) सुनीता विलियम्स ने

()

23. कक्षा-5 के विद्यार्थियों द्वारा विद्यालय में स्वच्छता अभियान चलाया जाता है। इस अभियान के लिए आप एक योजना तैयार कीजिए।

6